

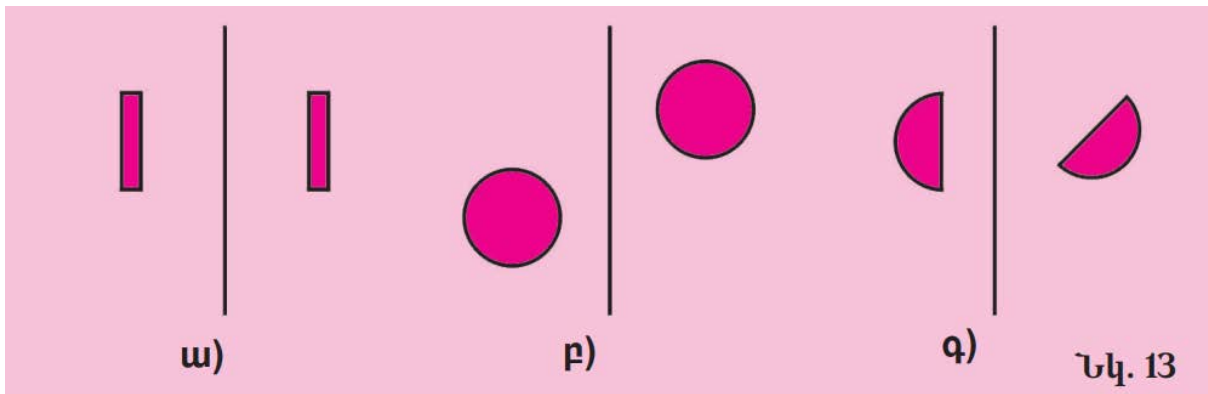
ՀԱՄԱԶՈՒՄՈՒԹՅՈՒՆ

Դասարանական աշխատանք՝

Դասագրքից՝ 236, 238-ի՝ ա, 240-ի՝ բ,դ,գ, 246 ա,գ

Տանր՝ 238 բ, 240 ա,գ, ե, 246 բ,դ

236. Համաչափ են արդյոք պատկերները տարված ուղղի նկատմամբ (տե՛ս նկ. 13): Կարո՞ղ են արդյոք այդ պատկերները համաչափ լինել մեկ ուրիշ ուղղի նկատմամբ:



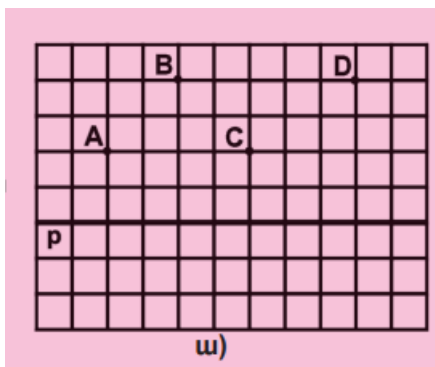
ա. այո, այո

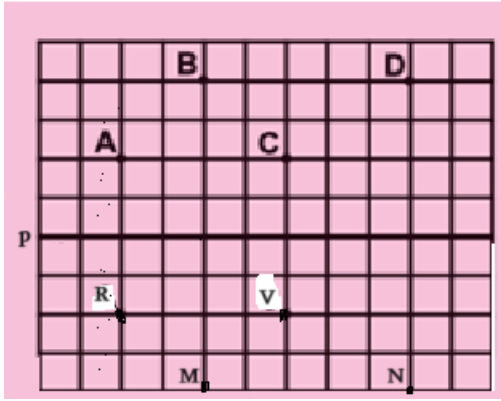
բ. ոչ, այո

գ. ոչ, ոչ

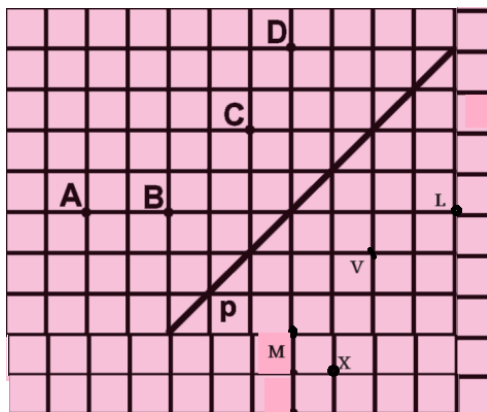
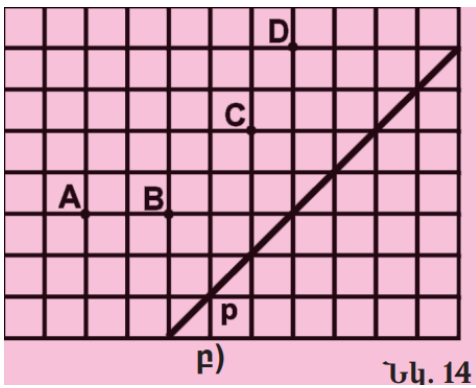
238. Տետրի մեջ արտագծե՛ք 14-րդ նկարում պատկերված կետերը և ուղիղը: Կառուցե՛ք այն կետերը, որոնք համաչափ են տրվածներին:

Դասարանական աշխատանք



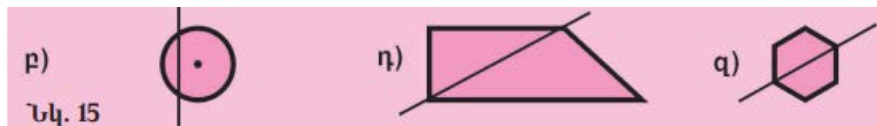


Տնային աշխատանք



240. Պատկերի համաչափության առաճեցքն է արդյոք տարված ուղիղը (տե՛ս նկ. 15):

Դասարանական աշխատանք

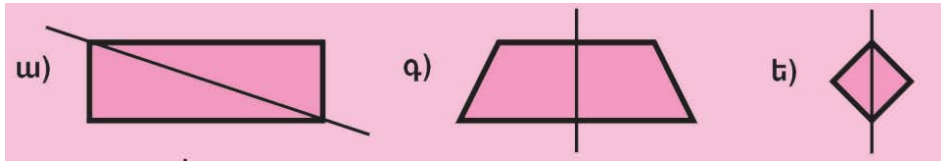


բ. ոչ

դ. ոչ

զ. այո

Տնային աշխատանք



ա.ոչ

գ.այո

ե.այո

246. Տետրի մեջ արտագծե՛ք 19-րդ նկարը և տարե՛ք p ուղիղը, որի նկատմամբ A և B կետերը համաչափ են:

Գասարանական և տնային աշխատանք:

